



Математические кружки Усть-Лабинского лицея

Занятие №12

1. Бревно распилили на 5 частей. Сколько сделали распилов?
2. Савелий разрезает торт для своих друзей. Всего в гостях у него 8 друзей. Сколько раз Савелий разрезал торт?
3. Владислав и Екатерина резали батон для сухариков. Они сделали 15 разрезов. Сколько получилось сухариков?
4. На рисунках ниже изображены 2 фигуры. Найдите периметры этих фигуры, если сторона клетки — 1 см.



5. Журавль стоит на двух ногах. А цапля — на одной ноге. Лягушка, сидя в болоте, насчитала 18 ног. Известно, что на болоте журавлей и цапель всего 11. Сколько на болоте цапель? Запиши решение и ответ.
6. Маргарите необходимо нарезать хлеб к ужину для 6 человек. Так чтобы каждому досталось по 2 кусочка хлеба. Хлеб необходимо нарезать весь. Сколько разрезов Маргарита сделает при этом?
7. Как при помощи чашечных весов без гирь разделить 24 кг гвоздей на две части — 9 и кг?
8. На парту выложили 12 счетных палочек. Сколько между ними промежутков?

Домашняя работа

9. Во дворе гуляют 17 человек — мамы и их дети. При этом с каждой мамой находятся во дворе не менее двух детей. Какое наибольшее число мам может быть во дворе? Запиши решение и ответ.
10. Зайцы нашли в лесу бревно длиной 6 м. Чтобы отнести домой, они распилили его на части длиной по 1 метру. Сколько они сделали распилов?
11. Лифт поднимается с первого этажа на третий за 6 секунд. За какое время он поднимется с первого этажа на девятый?
12. Как при помощи чашечных весов без гирь разделить 24 кг гвоздей на две части — 15 кг?



Приглашаем в Telegram-группу всех учащихся кружков

Telegram



<https://t.me/+vBa4Wk0kj9dkZTgy>



Математические кружки Усть-Лабинского лицея

Занятие №12

1. Бревно распилили на 5 частей. Сколько сделали распилов?
2. Савелий разрезает торт для своих друзей. Всего в гостях у него 8 друзей. Сколько раз Савелий разрезал торт?
3. Владислав и Екатерина резали батон для сухариков. Они сделали 15 разрезов. Сколько получилось сухариков?
4. На рисунках ниже изображены 2 фигуры. Найдите периметры этих фигуры, если сторона клетки — 1 см.



5. Журавль стоит на двух ногах. А цапля — на одной ноге. Лягушка, сидя в болоте, насчитала 18 ног. Известно, что на болоте журавлей и цапель всего 11. Сколько на болоте цапель? Запиши решение и ответ.
6. Маргарите необходимо нарезать хлеб к ужину для 6 человек. Так чтобы каждому досталось по 2 кусочка хлеба. Хлеб необходимо нарезать весь. Сколько разрезов Маргарита сделает при этом?
7. Как при помощи чашечных весов без гирь разделить 24 кг гвоздей на две части — 9 и кг?
8. На парту выложили 12 счетных палочек. Сколько между ними промежутков?

Домашняя работа

9. Во дворе гуляют 17 человек — мамы и их дети. При этом с каждой мамой находятся во дворе не менее двух детей. Какое наибольшее число мам может быть во дворе? Запиши решение и ответ.
10. Зайцы нашли в лесу бревно длиной 6 м. Чтобы отнести домой, они распилили его на части длиной по 1 метру. Сколько они сделали распилов?
11. Лифт поднимается с первого этажа на третий за 6 секунд. За какое время он поднимется с первого этажа на девятый?
12. Как при помощи чашечных весов без гирь разделить 24 кг гвоздей на две части — 15 кг?



Приглашаем в Telegram-группу всех учащихся кружков

Telegram

<https://t.me/+vBa4Wk0kj9dkZTgy>

